



پیگ آدینه‌ی گراد

۳

پایه سوم دبستان

فعالیت های
پایان هفته

- بودجه بندی محتوایی سالانه
- بودجه بندی هفتگی و ماهانه
- ارزشیابی درس به درس
- همراه با پاسخنامه آنلاین

هدیه های آسمان، قرآن، ریاضی، علوم، فارسی، مطالعات اجتماعی، سرگرمی

خلاصه ای از تمام فصل های کتاب

قرآن: مرور تا صفحه‌ی ۲ درس اول

هدیه آسمانی: مرور

فارسی: مرور تا صفحه‌ی ۱۰

ریاضی: مرور سال قبل

علوم: مرور سال قبل

مطالعات اجتماعی: مرور سال قبل



نام و نام خانوادگی:

دبستان:



۱ پیام های قرآنی را به معنای آن وصل کنید.

قرآن سخن خدا برای مردم است.

إِنَّ مَعَ الْعُسْرِ يُسْرًا

با خواندن نماز، به یاد خدا باش.

هَذَا بَيِّنٌ لِّلنَّاسِ

پس از هر سختی، آسانی است.

وَاقِمِ الصَّلَاةَ لِذِكْرِي

۲ معماهای قرآنی را پاسخ بدهید.

پرندگان که به امر خداوند با لشکر ابرهه جنگیدند چه نام داشتند؟

بزرگ ترین بت شکن تاریخ چه کسی بود؟

دو سوره که به نام حیوانات است را بنویسید.

۳ از بین کلمات زیر، هر کلمه و معنای آن را یک رنگ بزنید.



الله

بخشنده

رحیم

جزاء

مهربان

پاداش

رزق

خدا

رحمن

 نیاز به تلاش بیشتر قابل قبول خوب خیلی خوب

هدیه های آسمان

۱ حضرت فاطمه (س)، همیشه اول برای دیگران و سپس برای خود دعا می کردند. می دانید چرا؟

۲ با دیدن نام هر یک از اهل بیت پیامبر (ص) به یاد کدام کار خوب آن ها می افتید؟

حضرت فاطمه (س)

امام علی (ع)

امام حسین (ع)

امام حسن (ع)



PDF Compressor Free Version

۳ در محله ی امید و میلاد، در نیمه ی شعبان جشن بر پا شده بود و همسایگان تمام کوچه را چراغانی کرده بودند. بچه ها از پدرشان پرسیدند: «پدر جان این جشن به چه مناسبتی است؟» پدر پاسخ داد:



خیلی خوب خوب قابل قبول نیاز به تلاش بیشتر



۱ دو جمله به دل خواه بنویسید که علامت «!» داشته باشد.

.....

.....

۲ کلمه های زیر را بخوانید و مخالف آن ها را بنویسید.

بزرگ ≠ زشت ≠ دور ≠ شب ≠



۳ برگ های آن درخت را با مداد سبز و برگ های این درخت را با مداد نارنجی رنگ کنید.

۴ هر دو کلمه را در یک جمله به کار ببرید.

دعا، یاری:

آغاز، مهر:

۵ کلمه های زیر را با «ان» جمع ببندید و بنویسید.

دوست + ان: زنده + ان: گرسنه + ان: درخت + ان:

۶ هر جمله را با یکی از کلمات مناسب داخل کمانک کامل کنید.

کلمه ی با «ان» جمع بسته نشده است. (دختران، ایمان)

عمو نوروز، وقتی به بالای تپه رسید می زد. (نفس نفس، تاپ تاپ)

۷ جمله های زیر را به دل خواه ادامه بدهید.

یک سنجاقک قشنگ

ابر کوچولو

میکروب ها

خیلی خوب خوب قابل قبول نیاز به تلاش بیشتر





۱ روی کدام یک از بسته های زیر، از واحد لیتر استفاده می شود؟



۲ مادر، به حسام و حمید دو بسته بیسکویت داد. بسته ی حمید، در کیفش خرد شده بود و او گمان می کرد سهم کمتری دارد پس اعتراض کرد. مادر توضیح داد: «.....»



۳ خشک شدن لباس ها چه تغییر حالتی است؟

خیلی خوب خوب قابل قبول نیاز به تلاش بیشتر



۱ شما وقتی پدر بزرگ یا مادر بزرگ شوید چه انتظاری از نوه های خود دارید؟



۲ جاهای خالی را با کمک بزرگ ترها کامل کنید.

نام و نام خانوادگی پدر بزرگ یا مادر بزرگ سن محلّ تولد
 محلّ زندگی شغل تعداد فرزندان میزان رضایت مندی از
 شرایط زندگی رنگ مورد علاقه موسیقی مورد علاقه
 کتاب مورد علاقه



خیلی خوب خوب قابل قبول نیاز به تلاش بیشتر



۴ داستان زیر را کامل کنید.



قطره از ابر چکید. در رودخانه ای همراه با دوستانش راه دریا را در پیش گرفتند تا به دشتی رسیدند. خورشید سخت می تابید. قطره متوجه شد که عده ی زیادی از دوستانش به آرامی از رود جدا می شوند و به آسمان می روند.

به این عمل چه می گویند؟

قطره، نگران دوستانش بود، ولی رودخانه آرام گفت: « آن ها به آسمان رفتند و دوباره

«
 نرسیده به دریا، رودخانه ی دیگری به آن ها پیوست آب رودخانه بسیار سرد بود. قطره های آن رود گفتند:
 « ما از کوه ، از ذوب شدن
 «



خیلی خوب خوب قابل قبول نیاز به تلاش بیشتر



اجتماعی

۱ برای هر یک از افراد خانواده ی خود یک دعا بنویسید. (اگر هر کدام از موارد زیر در خانواده ی شما وجود ندارند برای خانواده های دیگر دعا کنید.)

پدر بزرگ یا مادر بزرگ:

پدر:

مادر:

خواهر:

برادر:

۲ هر یک از افراد زیر چگونه خوش حال می شوند:

○ پدری که خسته از محل کار خود به خانه برمی گردد.

○ مادری که مشغول گردگیری وسایل منزل است.

○ مادر بزرگی که منتظر تماس تلفنی فرزندانش است.



خیلی خوب خوب قابل قبول نیاز به تلاش بیشتر





۱ احسان، متن زیر را از روی درس سوّم نوشته است، اما نقطه های آن را فراموش کرده است. به او کمک کنید و با مداد قرمز، نقطه ها را بگذارید.

معلم ار داس آموزان حواس خوب نه اطراف نگاه کند و هر چه را می سد و می سوبد، دادداس کند و با هم فکری نک دنگر، نه صورت گروهی، گراسی سوبسد.

—	ی
صبح دلپذیر	زیبایی های طبیعت

۲ عبارت های زیر را مانند نمونه، در جای مناسب بنویسید.

آسمان آبی

بوی پونه های وحشی

قله ی کوه

رودخانه ی خروشان

غرق شادی

درختان سربه فلک کشیده

۳ در جملات زیر، برای کلمات مشخص شده، یک هم خانواده بنویسید.

تمام حیوانات، اطراف لانه ی خود را تمیز می کنند.

معلم، دانش آموزان را به چند گروه، تقسیم کرد.

انسان عادت دارد، محیط زندگی خود را پاکیزه نگه دارد.

معلم از دانش آموزان به خاطر اهمیت به پاکیزگی محیط زیست، تشکر کرد.

۴ به نظر شما چه کارهایی می توان انجام داد تا آسمان شهرمان همیشه آبی باشد؟ (۲ مورد)



نیاز به تلاش بیشتر

قابل قبول

خوب

خیلی خوب



۱ همه ی عددهای ۳ رقمی را بنویسید که صدگان آن ۵، دهگان آن ۴ یا ۳ یا ۰ و یکان آن ۲ یا ۶ باشد.



PDF Compressor Free Version

۲) افراد زیر چه نسبتی با پیامبر اکرم (ص) داشتند؟

عبدالله آمنه حلیمه
 ابوطالب عبدالمطلب

۳) به نظر شما، وقتی می خواهید از خانه خارج شوید، مادرتان چه دعایی برایتان می کند؟

۴) یک جمله از درس «همیشه با من» پیدا کنید و بنویسید، که نشان دهنده ی خدا پرستی پیامبر اکرم (ص) است؟



۵) برداشت خود را از آیه ی ۶۴ سوره ی یوسف، در دو سطر بنویسید.



خیلی خوب خوب قابل قبول نیاز به تلاش بیشتر



۱) با توجه به قصه ی تنگ بلور به سؤالات زیر پاسخ دهید:

الف) چرا انسان ها، ظرف های بلوری و سفالی را در یک جا جمع می کنند؟

ب) علت خوش حالی صنوبر چه بود؟



۲) با توجه به مثل صفحه ی ۲۸، پاسخ سؤالات زیر را بنویسید.

الف) طیب به چه ضرب المثلی اشاره کرد؟

ب) این ضرب المثل را در چه مواقعی به کار می بریم؟



خیلی خوب خوب قابل قبول نیاز به تلاش بیشتر



PDF Compressor Free Version

۳ در شعر (خدایم آفریده) یکی از راه های شکر گزاری خداوند آمده است. آن قسمت را پیدا کنید و بنویسید.



خیلی خوب خوب قابل قبول نیاز به تلاش بیشتر



۱ با حروف اسمتان کلماتی را از درس (زنگ ورزش) پیدا کنید و بنویسید.

مثال: فرهاد: (فوتبال، روزها، ماهر، همراه، دوست)

۲ با دقت به جدول نگاه کنید و جاهای خالی را با کلمات مناسب پر کنید.

بهار	شکوفه
پاییز	وزش باد

۳ کلمه ی مناسب را از داخل کمانک پیدا کنید و جاهای خالی را کامل کنید.

..... برای مسابقات احکام آماده بودند. (آن ها - ما)

..... مریم و سارا، به ملاقات دوستشان (رفت - رفتند)

..... به پدرش، برای گل کاری باغچه کمک می کند. (من - او)

۴ برای تصویر زیر، دو جمله ی زیبا بنویسید.



۵ جمله ها را کامل کرده و هر تصویر را به گزینه ی مناسب خود وصل کنید.

..... یک مکان بهداشتی است.

..... یک مکان فرهنگی است.

..... یک مکان مذهبی است.

..... یک مکان ورزشی است.



خیلی خوب خوب قابل قبول نیاز به تلاش بیشتر



- ۱) مریم از دوستش می خواهد لیست خوراکی هایی را که دوست دارد بنویسد. این کار چه فعالیتی را نشان می دهد؟
 الف) جمع آوری اطلاعات ب) پرسش ج) مرتب کردن اطلاعات د) نتیجه گیری
- ۲) اگر در مورد خوراکی های مفید سؤالی داشته باشیم بهتر است از چه کسانی پرسیم؟



۳) بعد از پرسیدن، باید درباره ی آن پرسش جمع آوری کنیم.

۴) اولین مرحله ی کار دانشمندان چیست؟

الف) جمع آوری اطلاعات ب) پرسش ج) مشاهده د) نتیجه گیری

۵) بعد از جمع آوری اطلاعات بهتر است آن ها را



خیلی خوب خوب قابل قبول نیاز به تلاش بیشتر



۱) با توجه به شناسنامه ی خود، جاهای خالی را کامل کنید.

نام پدر:	نام خانوادگی:	نام:
تاریخ صدور:	محل تولد:	نام مادر:
محل صدور:	شماره شناسنامه:	

۲) معنی نام افراد خانواده ی خود را بنویسید.



۳) شما می خواهید در کلاس اول ثبت نام کنید، چه مدارکی نیاز دارید؟

۴) جدول را کامل کنید.

کارهایی که در ۸ سالگی انجام می دادم	کارهایی که در ۵ سالگی انجام می دادم	کارهایی که در ۲ سالگی انجام می دادم

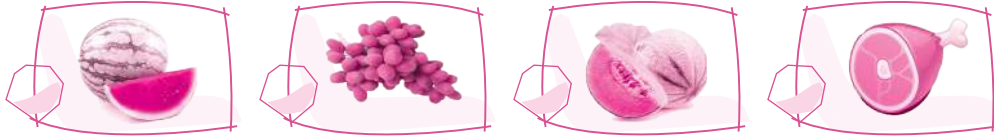


خیلی خوب خوب قابل قبول نیاز به تلاش بیشتر



PDF Compressor Free Version

۲ خشک کردن برای نگه داری کدام یک از مواد غذایی زیر مناسب است؟



۳ در گذشته های دور که هنوز یخچال اختراع نشده بود مردم برای نگه داری گوشت چه می کردند؟ از بزرگ ترها کمک بگیرید.



۴ اگر بخواهیم گوجه فرنگی را برای مدت خیلی طولانی نگه داری و استفاده کنیم چه راه هایی پیشنهاد می کنید؟



۵ چرا پنیر را در آب نمک قرار می دهند؟



۶ برای نگه داری گوشت مرغ و ماهی چه مکانی مناسب تر است؟



خیلی خوب خوب قابل قبول نیاز به تلاش بیشتر



اجتماعی



۱ چند نوع چراغ راهنمایی وجود دارد؟

۲ علی برادر کوچک تر عماد است. آن ها می خواهند برای اولین بار تنهایی از خیابان رد شوند و به منزل دایی خود بروند. عماد مراحل عبور را برای علی توضیح می دهد. او می گوید:

۳ چرا ماشین های پلیس به دو رنگ آبی و سبز هستند. وظایف هر کدام (هر رنگ) را بنویسید.



خیلی خوب خوب قابل قبول نیاز به تلاش بیشتر



۶) بند زیر را کامل کنید سپس «جمله ی موضوع» را مشخص کنید.

جنگل گلستان در استان.....

جمله ی موضوع:.....



خیلی خوب خوب قابل قبول نیاز به تلاش بیشتر

ریاضی

۱) با رقم های ۴، ۵، ۶، ۹ چهار عدد زوج چهار رقمی بنویسید و آن ها را از کوچک به بزرگ مرتب کنید.

۲) بزرگ ترین عدد فرد چهار رقمی را بنویسید که رقم های آن تکراری نباشد. این عدد را با حروف بنویسید.

حروف:

رقم:

۳) در جای خالی، عدد مناسب بنویسید.

$250 \times 10 =$

$\times 30 = 120$

$80 \times 40 =$

$28 \times = 2800$

$200 \times = 6000$

$50 \times = 5000$

۴) در یک کارگاه سفالگری در هر روز ۲۰ کوزه ی سفالی ساخته می شود در یک هفته چند کوزه ساخته می شود؟ در یک ماه چه طور؟



۵) حاصل ضرب هر عددی در یک، برابر است با:

۶) حاصل ضرب هر عددی در صفر، برابر است با:

۷) خانه تصمیم گرفته، روزی ۱۰۰۰ تومان صدقه در صندوق بیندازد. او در ۲ هفته چند تومان صدقه می دهد؟



خیلی خوب خوب قابل قبول نیاز به تلاش بیشتر

۲ محیط شکل های زیر را هم از راه جمع و هم از راه ضرب به دست آورید.

شکل ۳ س

شکل ۴ س

شکل ۵ س

شکل ۳ س

شکل ۸ س



۳ خانۀ ۷۹۶۵ تومان پول داشت. او ۳۷۲۰ تومان از پولش را صدقه داد. چند تومان برایش باقی مانده است؟



$$\begin{array}{r} 4859 \\ - 2226 \\ \hline \end{array}$$

۴ برای تفریق مقابل شکل بکشید و آن را حل کنید.

۵ حاصل عبارت های زیر را به دست آورید.

$64 - (7 \times 3) =$	$8 \times (2 \times 4) =$
$(3 \times 9) + (4 \times 5) =$	$54 \div (3 \times 3) =$
$17 + (28 \div 7) =$	$(9 \div 3) \times (21 \div 7) =$



خیلی خوب خوب قابل قبول نیاز به تلاش بیشتر



۱ در تصویر زیر قسمت های اصلی یک گیاه را مشخص کنید.






۱ جمله های زیر را بخوانید، سپس معنی هر کدام را بنویسید.

⊙ به مهمانی حاتم چرا نروی؟ که خلقی بر سماط او، گردآمده اند؟

⊙ هر که نان از عمل خویش خورد منت حاتم طایی نبرد.

۲ بادکنک های مربوط به هم را با یک خط، به یکدیگر وصل کنید.



بیماران در آن جا بستری هستند.

دبیران در آن جا درس می دهند.

جای پر از کوه

۳ جای خالی را کامل کنید و سپس تفاوت دو کتاب زیر را در یک سطر بنویسید.



⊙ داستان کوتاهی که از روزگار گذشته بر جای مانده است و با پند و اندرز همراه است و

تجربه ای از زندگی را بازگو می کند، می گویند.

۴ در داستان خواب خلیفه، وظیفه ی خواب گزار چه بود؟



۵ چرا خواب گزار دوم، پاداش گرفت؟



۶ هدف حکیم از دادن جعبه به آن شخص چه بود؟




خیلی خوب خوب قابل قبول نیاز به تلاش بیشتر



۱ نام نویسنده ی کتاب های زیر را بنویسید.



۲ جاهای خالی را با کلمات مناسب پر کنید.



۳ افسانه کتابش را در حیاط مدرسه جا گذاشته بود. او زنگ بعد یادش آمد و سریع رفت و کتابش را برداشت. اما کتابش خیس شده بود. اگر شما جای افسانه بودید چه می کردید؟

۴ با توجه به درس دهم به سؤالات زیر پاسخ دهید.

⊙ سه کلمه که نشانه ی جمع دارد.

⊙ دو جمله که زمان حال را نشان می دهد.

۵ از شعر نقاش دنیا دو جمله ی تعجبی پیدا کنید و بنویسید.

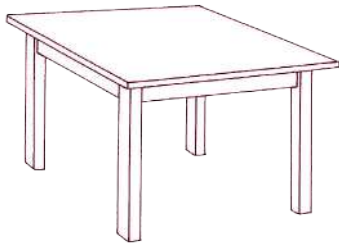


خیلی خوب خوب قابل قبول نیاز به تلاش بیشتر

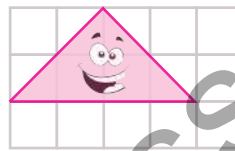
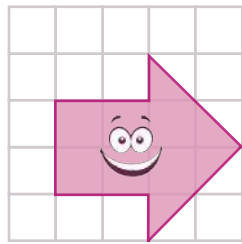


۱ میثم یک مربع به ضلع ۹ سانتی متر و پوریا یک مستطیل به طول ۷ سانتی متر و عرض ۶ سانتی متر رسم کرده اند. مساحت کدام شکل بیشتر است؟



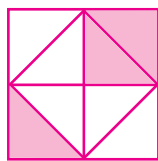

۱) سطح شکل های زیر را رنگ کنید.



۲) اندازه ی سطح هر شکل را با توجه به واحد مشخص شده حساب کنید.




۳) مساحت قسمت رنگ شده را با هم مقایسه کنید و علامت $< = >$ بگذارید.




۴) دو اتاق هم اندازه داریم. اتاق اول را با موزاییک های ۵۰ سانتی متری و اتاق دوم را با موزاییک های

۷۰ سانتی متری فرش کرده ایم. تعداد موزاییک ها در کدام اتاق بیشتر است؟ چرا؟



۵) سارا با تمام قطعات تا نگرام یک درخت، سپیده یک خانه و سلما یک گربه ساخته است. فکر می کنید

سطح کدام شکل بیشتر است؟ چرا؟



خیلی خوب خوب قابل قبول نیاز به تلاش بیشتر

